





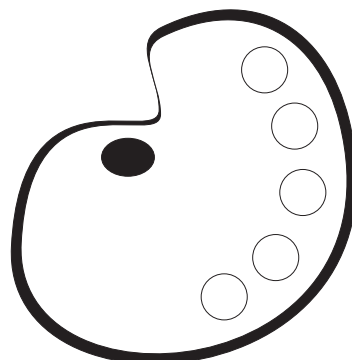


MŠ:

Příjmení:

Jméno: Věk:

ÚKOL č. 1

Čmela Pepík vysypal z krabice věci, které našel na půdě. Najdi dvojice, které k sobě patří. Jen jedna věc zůstala sama. Označ ji.



Počet bodů

2



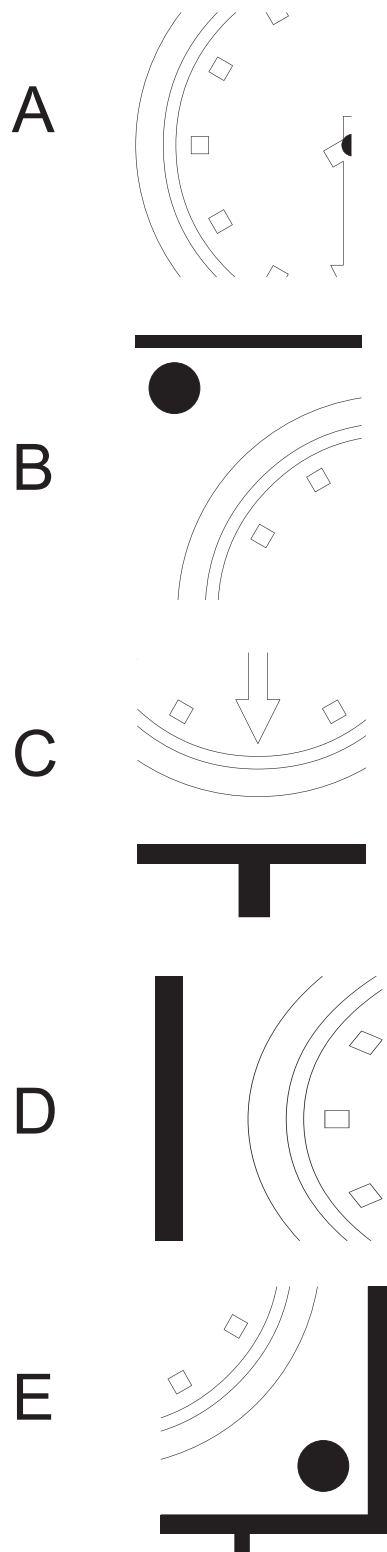

MŠ:

Příjmení:

Jméno: Věk:

ÚKOL č. 2

Čmeldovi se rozbily hodiny, která část mu chybí. Onač ji.



Počet bodů

2



MŠ:

Příjmení:

Jméno: Věk:

ÚKOL č. 3

Symbole v tlustém rámečku se po sobě opakují. Pomoz Čmeldovi Pepíkovi vyznačit ve velkém čtverci tuto trojici takto uspořádaných symbolů.



◆	◐	✳	○	⦶	✳	◆
◐	◆	⦶	○	◐	✳	⦶
✳	○	◐	✳	◆	⦶	○
✳	⦶	○	✳	○	◆	⦶
○	✳	◆	⦶	○	✳	◐
◆	○	◐	✳	◆	⦶	⦶
◆	✳	✳	⦶	○	✳	◐

Počet bodů